

知识要点回顾题卷

(不能写的字可用拼音代替)

姓名:

1、请指出这些区域在中国地图上的大致地理位置。并与试卷中所有问题相关连。

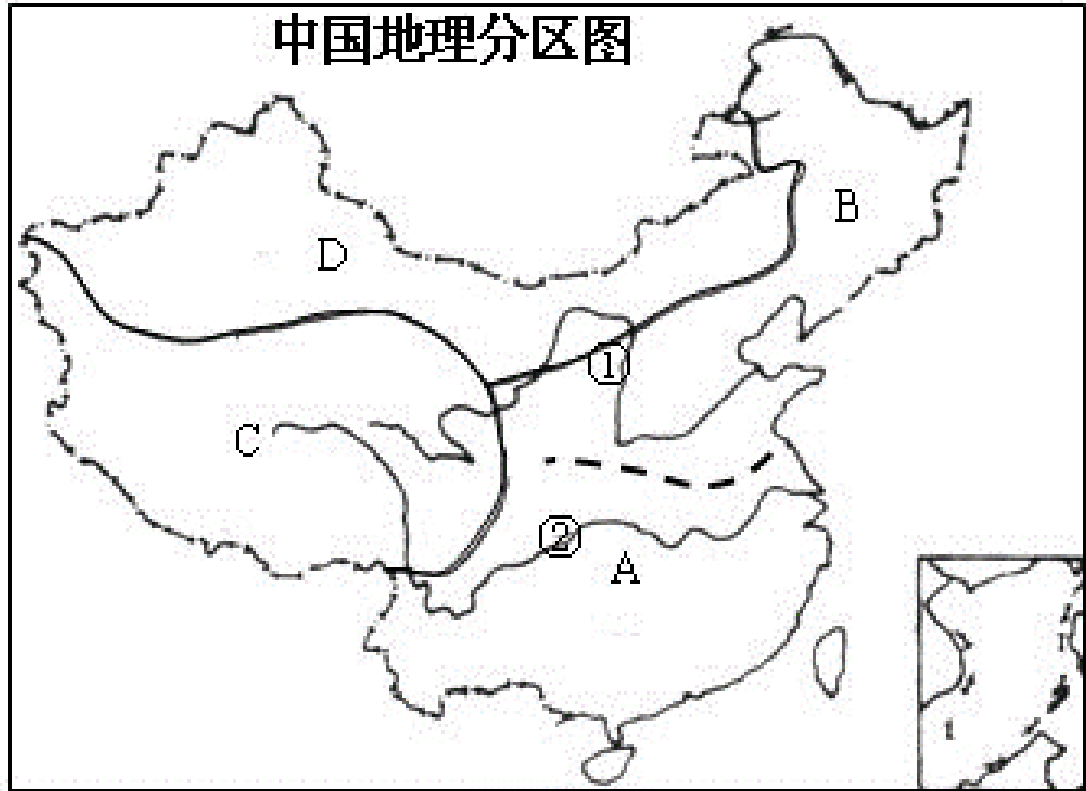
A、塞北 B、西域 C、关中 D、中原 E、巴蜀 F、江南



2、请指出下列六个成语所描述的事件发生在中国哪些地方，它们大致位于中国哪里（请在地图中找）？

- | | | |
|-----------|------|------|
| 明修栈道，暗度陈仓 | 燕然勒石 | 问鼎中原 |
| 泾渭分明 | 蜀犬吠日 | 水漫金山 |

3、请指出下图中的字母所对应的区域（西北、青藏、北方、南方），①和②分别指的是哪条河流（黄河，长江）。



4、中国南北是以什么来划分？请在图中标出它的位置。

A. 长江 B. 黄河 C. 秦岭—淮河 D. 南岭


5、古诗中“西出阳关无故人”“春风不度玉门关”中的阳关与玉门关位于同一个省市吗？



6、《敕勒川》是一首江南民歌吗，我们可以在这里采莲追鱼吗？
 诗中所描写的“天苍苍，野茫茫，风吹草低见牛羊”的景象能在新西兰看到吗？



7、山海关、嘉峪关，都是长城的关隘吗？它们中的哪个“西近阳关”，哪个“东临大海”？




8、蜀道，是指三国时期蜀国所修的道路吗？请在地图上找出蜀道连接了哪两个城市？



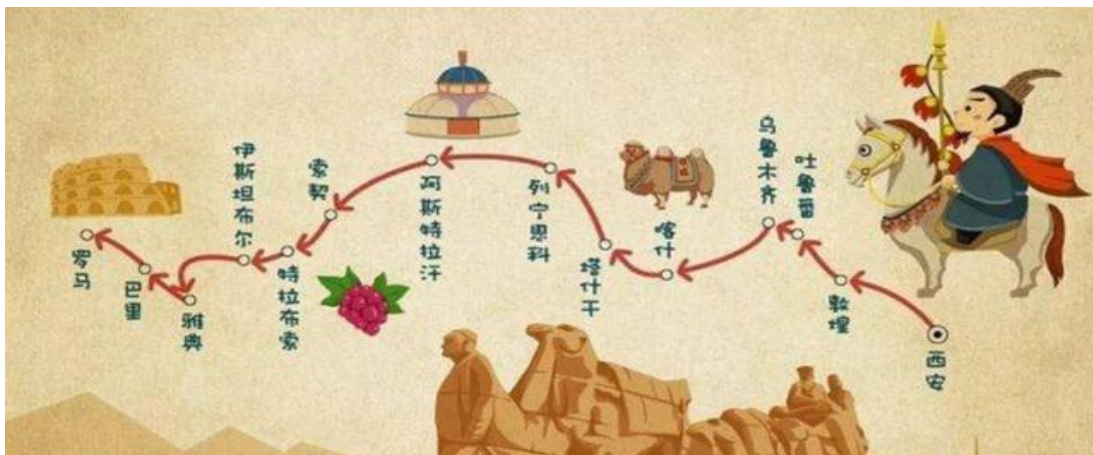
9、假如你有一位同学假期想去中国看熊猫，你会告诉他哪个城市是最佳的目的地？如果有朋友想体验李白诗中所描述的“两岸猿声啼不住，轻舟已过万重山”，又该去哪里呢？



10、下面这张图中所展示的是中国现今发现的最早的文字吗，它叫什么？是在中国哪个城市被发现的？



11、沿着中国唐代的“丝绸之路”向西可直达罗马，那么中国的起点在当时的哪座城市呢？请在图上找出。



12、这是两副古画，请问画中的人物出自于中国历史上哪个朝代呢？



13、《清明上河图》中的“清明”是指的“明朝和清朝”吗？如果不是，是指的什么？这幅画中所描绘的是现在中国的哪座城市？



14、“逐鹿中原”、“问鼎中原”中的“鹿”和“鼎”都是指什么？“中原”主要指中国现在哪个省所在的区域？



15、“封狼居胥”、“燕然勒石”是说因为学习很刻苦，考试考得很好，因此被封将和使自己的名字铭刻于石头之上吗？



16、兵马俑是中国什么朝代制作的，他们有颜色吗，他们是用来打仗的吗？“蹴鞠”即踢足球的活动起源于哪个国家？



17、江南主要是指哪两个城市？“小桥流水”、“吴侬软语”是描述江南地方特色的吗？



18、浙江杭州西湖景区的“断桥”名字由来是指因为游人太多而使桥摇摇欲坠，还是下雪时桥面部分被雪覆盖无法看清全貌呢？



19、《梁山泊与祝英台》与《白蛇传》都是流传于江南的民间故事吗？它们都是取材于神话故事吗？

请欣赏乐曲，想一想曲名是什么，它取材于其中的哪个故事？

<https://www.youtube.com/watch?v=sm1Wz2FXbPg>

